

24/10/12

ESERCITAZIONI DI MATEMATICA (E.C.E.)

①

ES: 7.43 II) Determinare gli asintoti di

$$f(x) = \frac{\log x}{\log x - 2}$$

- Per trovare gli asintoti orizzontali o obliqui dobbiamo studiare la funzione f per $x \rightarrow \pm\infty$.
- Per trovare gli asintoti verticali dobbiamo studiare la funzione f per x tendente agli estremi (finiti) degli intervalli in cui è definita f .

Determiniamo prima le condizioni di esistenza, cioè il dominio, di $f(x)$:

C.E.: • $x > 0$

• $\log x - 2 \neq 0 \Leftrightarrow \log x \neq 2 \Leftrightarrow x \neq e^2$

Quindi il dominio di $f(x)$ è:

$$D_f = (0, e^2) \cup (e^2, +\infty)$$

Gli estremi sono quindi 0^+ , $(e^2)^-$, $(e^2)^+$

$$- \lim_{x \rightarrow 0^+} f(x) = \lim_{x \rightarrow 0^+} \frac{\log x}{\log x - 2} \stackrel{\uparrow}{=} \lim_{x \rightarrow 0^+} \frac{\log x}{\log x} = 1^-$$

essendo $\log x$ un infinito dello stesso ordine di $\log x - 2$ per $x \rightarrow 0^+$

L'ultimo limite risulta per difetto in quanto $\frac{\log x}{\log x - 2} < 1$ per ogni $x : 0 < x < 1$.

$$- \lim_{x \rightarrow (e^2)^-} f(x) = \lim_{x \rightarrow (e^2)^-} \frac{\log x}{\log x - 2} = \frac{(\log e^2)^-}{(\log e^2)^- - 2} = \frac{2^-}{2^- - 2} = \frac{2^-}{0^-} = +\infty$$

$$- \lim_{x \rightarrow (e^2)^+} f(x) = \lim_{x \rightarrow (e^2)^+} \frac{\log x}{\log x - 2} = \frac{(\log e^2)^+}{(\log e^2)^+ - 2} = \frac{2^+}{2^+ - 2} = \frac{2^+}{0^+} = +\infty$$

Quindi dagli ultimi 2 limiti abbiamo l'asintoto $x = 2$.

$$- \lim_{x \rightarrow +\infty} f(x) = \lim_{x \rightarrow +\infty} \frac{\log x}{\log x - 2} \stackrel{\uparrow}{=} 1^+$$

essendo $\log x$ e $\log x - 2$ infiniti dello stesso ordine per $x \rightarrow +\infty$

L'ultimo limite risulta per eccesso in quanto

$$\frac{\log x}{\log x - 2} > 1 \text{ per ogni } x: e^2 < x.$$

Dall'ultimo limite abbiamo l'asintoto $y = 1$.

Non cerchiamo asintoti per $x \rightarrow -\infty$ in quanto f non è definito per $x < 0$.

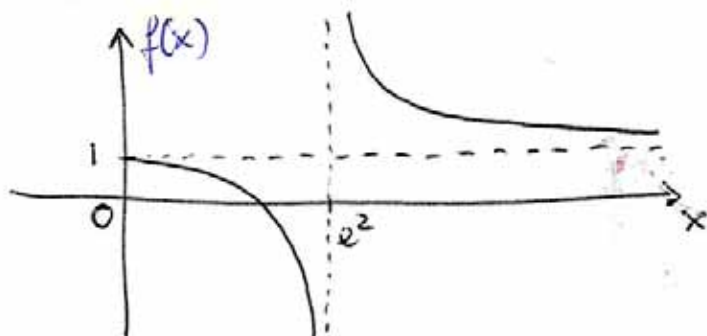


Grafico qualitativo
di $f(x)$.

ES: 9.5 III) Applicando il Teo. di De L'Hôpital, calcolare:

$$\lim_{x \rightarrow 0} \frac{\sin x + x^2}{2x + x^2 \cos x}$$

Riconosciamo le forme d'indeterminazione $\left[\frac{0}{0}\right]$. Utilizziamo quindi il primo teo. di De L'Hôpital.

È utile ricordare che:

Coss: Somma e prodotto di funzioni derivabili in un insieme I sono funzioni derivabili in I . \square

1) $N(x) = \sin x + x^2$ e $D(x) = 2x + x^2 \cos x$ sono derivabili in un intorno I_0 di $x_0 = 0$ in quanto

• $\sin x, x^2$ sono derivabili (in I_0) $\Rightarrow \sin x + x^2$ derivabile (in I_0)

• $x^2, \cos x$ derivabili $\Rightarrow x^2 \cos x$ derivabile

• $2x, x^2 \cos x$ derivabile $\Rightarrow 2x + x^2 \cos x$ derivabile.

È possibile scegliere l'intorno I_0 di $x_0 = 0$ in modo che $D(x) \neq 0$ e $D'(x) \neq 0 \forall x \in I_0$. Infatti:

• $D(x) \neq 0 \Leftrightarrow -2x \neq x^2 \cos x$ che è soddisfatta per x abbastanza vicino a $x_0 = 0$.

• $D'(x) \neq 0 \Leftrightarrow 2 + 2x \cos x + x^2(-\sin x) \neq 0$ che è soddisfatta per x abbastanza vicino a $x_0 = 0$.

$$2) N(x_0) = N(0) = \sin 0 + 0 = 0$$

$$D(x_0) = D(0) = 0 + 0 \cdot 1 = 0$$

$$3) N'(x) = \cos x + 2x$$

$$D'(x) = 2 + 2x \cos x + x^2(-\sin x)$$

$$\lim_{x \rightarrow 0} \frac{N'(x)}{D'(x)} = \frac{1 + 2 \cdot 0}{2 + 2 \cdot 0 \cdot 1 - 0 \cdot 0} = \frac{1}{2}$$

Quindi applicando il primo Teo. di De L'Hôpital abbiamo:

$$\lim_{x \rightarrow 0} \frac{N(x)}{D(x)} = \lim_{x \rightarrow 0} \frac{N'(x)}{D'(x)} = \frac{1}{2}$$

ES: 9.27 Determinare gli intervalli di crescita e decrescita di

$$f(x) = \begin{cases} x^2 + 10x + 9 & \text{-se } x < 0 \\ 3 \log_3(x+27) & \text{-se } x \geq 0 \end{cases}$$

Definiamo i due rami con: $f_1(x) = x^2 + 10x + 9$ e $f_2(x) = 3 \log_3(x+27)$.

1) $f_1(x)$ è sempre definita ^{e derivabile}, in particolare lo è per $x < 0$.
Per determinare dove è crescente dobbiamo porre $f_1'(x) \geq 0$.

$$f_1'(x) = 2x + 10 \geq 0 \Leftrightarrow x \geq -5$$

Quindi f_1 decresce per $x < -5$, ha un punto stazionario in $x = -5$ e cresce per $x > -5$.

2) $f_2(x)$ è definita e derivabile per $x \geq 0$.

Per determinare dove è crescente dobbiamo porre $f_2'(x) \geq 0$.

$$f_2'(x) = \frac{3}{\log 3} \frac{1}{x+27} \cdot D[x+27] =$$

$$= \frac{3/\log 3}{x+27} \geq 0$$

$$\text{RIC: } \log_a b = \frac{\log_c b}{\log_c a}$$


$$\Rightarrow \log_3(x+27) = \frac{\log(x+27)}{\log 3}$$

$$f_2'(x) > 0 \Leftrightarrow x > -27$$

In particolare f_2 è crescente in tutto il suo insieme di definizione $x \geq 0$.

Diagramma di crescita e decrescita

(4)



• f decresce per $x < -5$, ha punto stazionario in $x = -5$, cresce per $-5 < x < 0$ e per $x > 0$. Dobbiamo verificare che $\lim_{x \rightarrow 0^-} f(x) \leq f(0)$

$$\left. \begin{aligned} \lim_{x \rightarrow 0^-} f(x) &= \lim_{x \rightarrow 0^-} (x^2 + 10x + 9) = 9 \\ f(0) &= 3 \log_3 27 = 3 \cdot 3 = 9 \end{aligned} \right\} \Rightarrow \lim_{x \rightarrow 0^-} f(x) \leq f(0)$$

• Possiamo concludere che

$$f(x) \text{ è } \begin{cases} \text{decrescente} & \cdot x < -5 \\ \text{stazionario} & \cdot x = -5 \\ \text{crescente} & \cdot x > -5 \end{cases}$$

ES: 9.34 II) Studiare l'andamento di:

$$f(x) = \frac{5x^2 - 2x}{e^x}$$

1. Studiamo il dominio

Il denominatore deve essere non nullo: $D(x) = e^x \neq 0$
Ma $\forall x \in \mathbb{R}; e^x > 0 \Rightarrow f$ è definito su tutto \mathbb{R} .

$$\mathcal{D}_f = \mathbb{R}$$

2. Simmetrie

È facile verificare che f non è pari; basta trovare un $x_0 \in \mathbb{R}; f(x_0) \neq f(-x_0)$. Ad esempio $x_0 = 1$:

$$f(1) = \frac{5-2}{e} = 3e^{-1}$$

$$f(-1) = \frac{5+3}{e^{-1}} = 8e$$

È facile verificare che f non è dispari: $\exists x_0 \in \mathbb{R};$

$$f(x_0) \neq -f(x_0)$$

$$f(-1) = 8e$$

$$-f(1) = -3e^{-1}$$

3. Intesezioni con gli assi cartesiani.

Gli assi cartesiani hanno equazione $y=0$ e $x=0$, quindi basta effettuare queste sostituzioni per trovare la coordinata rimanente.

$$\begin{cases} y = \frac{5x^2-2x}{e^x} \\ x=0 \end{cases} \Rightarrow y = \frac{0}{1} = 0 : P_1 = (0,0)$$

$$\begin{cases} y = \frac{5x^2-2x}{e^x} \\ y=0 \end{cases} \Rightarrow \frac{5x^2-2x}{e^x} = 0 \Leftrightarrow x(5x-2) = 0 \Leftrightarrow \begin{cases} x=0 \\ \text{oppure} \\ x = \frac{2}{5} \end{cases}$$

$P_2 = (0,0)$
 $P_3 = (\frac{2}{5}, 0)$

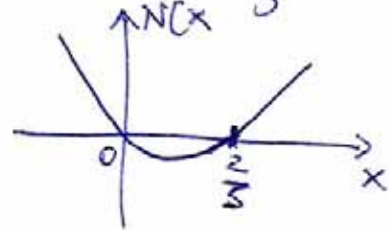
4. Segno della funzione f.

$$f(x) \geq 0 \Leftrightarrow \frac{5x^2-2x}{e^x} \geq 0$$

$D(x) = e^x > 0 \forall x \in \mathbb{R}$, quindi $f(x) \geq 0 \Leftrightarrow N(x) = 5x^2-2x \geq 0$

Cioè: $x(5x-2) \geq 0$. $N(x)$ ha radici $x_1 = 0, x_2 = \frac{2}{5}$

$N(x) \geq 0$ per $x \leq 0$ oppure $x \geq \frac{2}{5}$
 $\Rightarrow f(x) \geq 0$ per $x \leq 0$ oppure $x \geq \frac{2}{5}$



$f(x) = \begin{cases} \text{positivo} & \cdot x < 0 \text{ o } x > \frac{2}{5} \\ \text{nullo} & \cdot x = 0 \text{ o } x = \frac{2}{5} \\ \text{negativo} & \cdot 0 < x < \frac{2}{5} \end{cases}$

5. Limiti e asintoti

Il dominio di f ha estremi non finiti $\pm \infty$ ed è una funzione continua, quindi non ha asintoti verticali. Cerchiamo quelli orizzontali e obliqui.

$$\lim_{x \rightarrow +\infty} f(x) = \lim_{x \rightarrow +\infty} \frac{5x^2-2x}{e^x} = 0 \text{ essendo } e^x \text{ un infinito di ordine superiore!}$$

$$\lim_{x \rightarrow -\infty} f(x) = \lim_{x \rightarrow -\infty} \frac{5x^2-2x}{e^x} = \frac{+\infty}{0^+} = +\infty$$

Quindi f potrebbe avere un asintoto obliquo per $x \rightarrow -\infty$.

Tale asintoto esiste sse:

(6)

$$\lim_{x \rightarrow -\infty} \frac{f(x)}{x} = k \quad \text{con } k \neq 0, \infty$$

Abbiamo $\lim_{x \rightarrow -\infty} \frac{f(x)}{x} = \lim_{x \rightarrow -\infty} \frac{5x^2 - 2x}{xe^x} \stackrel{\uparrow}{=} \lim_{x \rightarrow -\infty} \frac{5x - 2}{e^x} = \frac{-\infty}{0^+} = -\infty$

cancellazione del
fattore non nullo x

$= -\infty$.

Quindi non esiste asintoto obliquo per $x \rightarrow -\infty$, ma solo un asintoto orizzontale ~~per~~ di equazione $y=0$ per $x \rightarrow +\infty$. Inoltre $\lim_{x \rightarrow +\infty} f(x) = 0^+$ in quanto $f(x) > 0$ per $x > \frac{2}{5}$, quindi f tende a $y=0$ da sopra.

b. Massimi e minimi.

f è derivabile su tutto \mathbb{R} e la sua derivata vale:

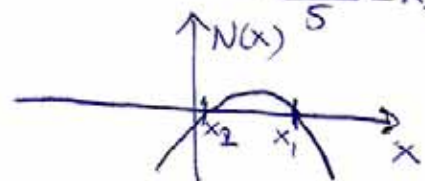
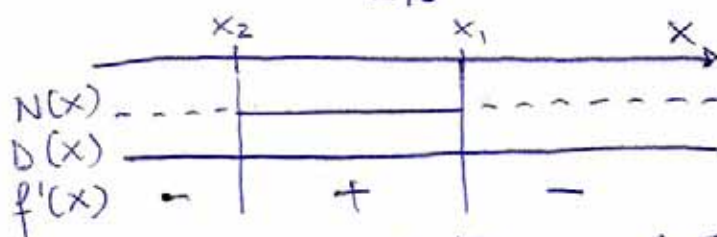
$$f'(x) = \frac{(10x - 2)e^x - (5x^2 - 2x)e^x}{e^{2x}} = \frac{10x - 2 - 5x^2 + 2x}{e^x} = \frac{-5x^2 + 12x - 2}{e^x}$$

$$D(x) = e^x > 0 \quad \forall x \in \mathbb{R}$$

$$f'(x) \geq 0 \iff N(x) = -5x^2 + 12x - 2 \geq 0$$

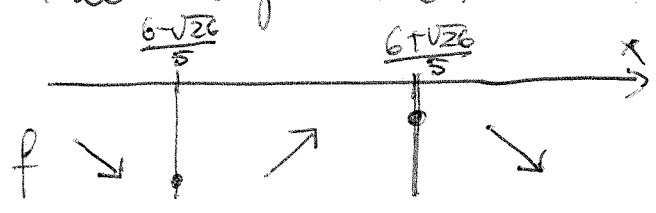
Le radici di N sono:

$$x = \frac{-12 \pm \sqrt{144 - 40}}{-10} = \frac{-12 \pm 2\sqrt{26}}{-10} = \begin{cases} \frac{6 + \sqrt{26}}{5} = x_1 \\ \frac{6 - \sqrt{26}}{5} = x_2 \end{cases}$$



$$f'(x) = \begin{cases} \text{positivo} & \cdot \frac{6 - \sqrt{26}}{5} < x < \frac{6 + \sqrt{26}}{5} \implies f \text{ crescente} \\ \text{nullo} & \cdot x = \frac{6 - \sqrt{26}}{5} \text{ oppure } x = \frac{6 + \sqrt{26}}{5} \implies f \text{ stazionaria} \\ \text{negativo} & \cdot x < \frac{6 - \sqrt{26}}{5} \text{ oppure } x > \frac{6 + \sqrt{26}}{5} \implies f \text{ decrescente} \end{cases}$$

Per determinare min e max guardiamo i punti stazionari nel diagramma;



Se come f decresce prima di x_2 e cresce dopo x_2 , il punto stazionario $x_2 = \frac{6-\sqrt{26}}{5}$ è punto di minimo.

Se come f cresce prima di x_1 e decresce dopo x_1 , il punto stazionario $x_1 = \frac{6+\sqrt{26}}{5}$ è punto di massimo.

7. f è ovunque derivabile (cioè $\forall x \in \mathbb{R}$).

8. Punti di flesso

f è derivabile 2 volte e la sua derivata II vale:

$$f''(x) = D[f'(x)] = \frac{(-10x+12)e^x - (-5x^2+12x-2)e^x}{e^{2x}} = \frac{-10x+12+5x^2-12x+2}{e^x} = \frac{5x^2-22x+14}{e^x}$$

I punti di flesso sono quei punti con un intorno sinistro nel quale f è concava e un intorno destro nel quale f è convessa, o viceversa.

Per il Teo. di pag. 231 del Greenaggio:

$$f \text{ è } \begin{cases} \text{convessa} \\ \text{concava} \end{cases} \text{ in } I \iff \forall x \in I \begin{cases} f''(x) \geq 0 \\ f''(x) \leq 0 \end{cases}$$

Quindi determiniamo le x : $f''(x) \geq 0$.

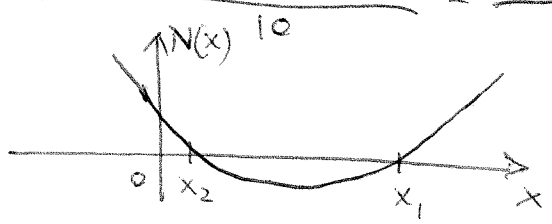
$$D(x) = e^x > 0 \quad \forall x \in \mathbb{R}$$

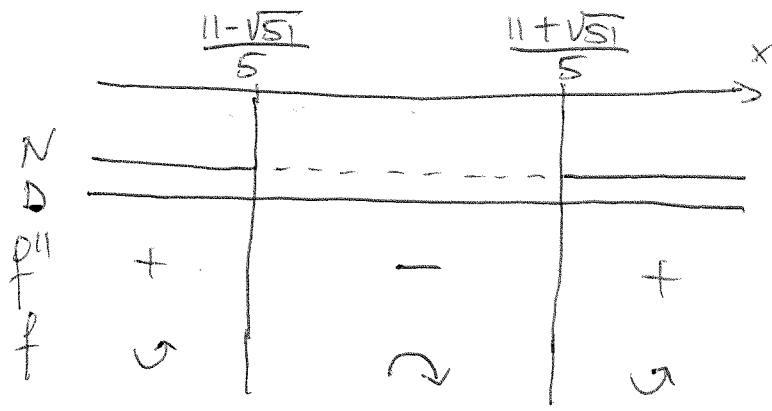
$$N(x) = 5x^2 - 22x + 14 \geq 0$$

Le radici di N sono;

$$x = \frac{22 \pm \sqrt{484 - 280}}{10} = \frac{22 \pm 2\sqrt{86}}{10} = \frac{11 \pm \sqrt{86}}{5}$$

$$= \begin{cases} \frac{11 + \sqrt{86}}{5} = x_1 \\ \frac{11 - \sqrt{86}}{5} = x_2 \end{cases}$$





Quindi f è convessa per $x < \frac{11-\sqrt{5}}{5}$ e per $x > \frac{11+\sqrt{5}}{5}$
 f è concava per $\frac{11-\sqrt{5}}{5} < x < \frac{11+\sqrt{5}}{5}$
 f ha punti di flesso in $x_1 = \frac{11+\sqrt{5}}{5}$ e $x_2 = \frac{11-\sqrt{5}}{5}$

Abbiamo quindi il diagramma qualitativo:

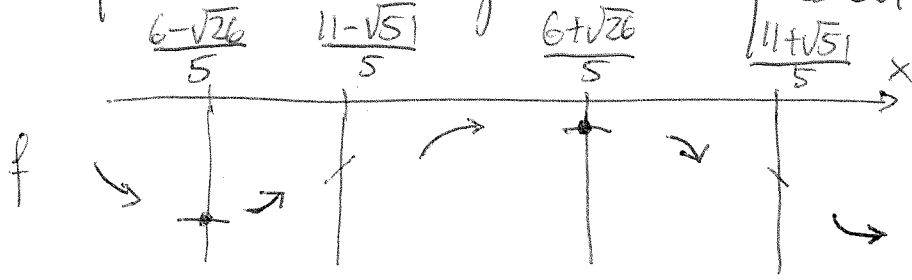


Grafico qualitativo di f :

